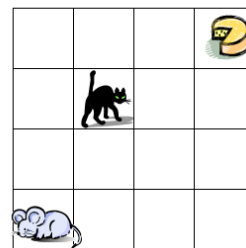


4. forduló 6. osztály 2016/2017

1. Hányféle úton juthat az egér a sajthoz, ha csak fel vagy jobbra léphet, és szeretné elkerülni a macskát?
2. A napközis táborba járó gyerekek harmada uszodába, hatoda a sportpályára, a két heted része pedig a könyvtárba ment. 12 tanuló múzeumlátogatáson vett részt, 6 gyerek a táborban maradt.



a) Hány gyerek járt a napközis táborba?

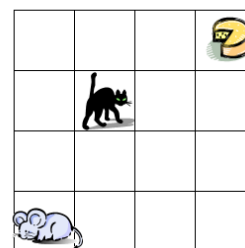
b) A gyerekek hányad része ment múzeumba?

c) Kik voltak többen: akik a kulturális foglalkozást (múzeum, könyvtár) vagy akik a sportot (uszoda, sportpálya) választották?

Beküldési határidő: november 30.

4. forduló 6. osztály 2016/2017

1. Hányféle úton juthat az egér a sajthoz, ha csak fel vagy jobbra léphet, és szeretné elkerülni a macskát?
2. A napközis táborba járó gyerekek harmada uszodába, hatoda a sportpályára, a két heted része pedig a könyvtárba ment. 12 tanuló múzeumlátogatáson vett részt, 6 gyerek a táborban maradt.



a) Hány gyerek járt a napközis táborba?

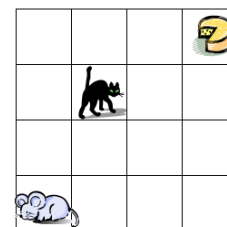
b) A gyerekek hányad része ment múzeumba?

c) Kik voltak többen: akik a kulturális foglalkozást (múzeum, könyvtár) vagy akik a sportot (uszoda, sportpálya) választották?

Beküldési határidő: november 30.

4. forduló 6. osztály 2016/2017

1. Hányféle úton juthat az egér a sajthoz, ha csak fel vagy jobbra léphet, és szeretné elkerülni a macskát?
2. A napközis táborba járó gyerekek harmada uszodába, hatoda a sportpályára, a két heted része pedig a könyvtárba ment. 12 tanuló múzeumlátogatáson vett részt, 6 gyerek a táborban maradt.



a) Hány gyerek járt a napközis táborba?

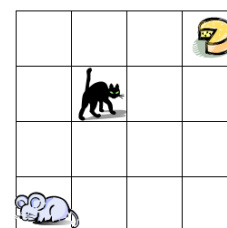
b) A gyerekek hányad része ment múzeumba?

c) Kik voltak többen: akik a kulturális foglalkozást (múzeum, könyvtár) vagy akik a sportot (uszoda, sportpálya) választották?

Beküldési határidő: november 30.

4. forduló 6. osztály 2016/2017

1. Hányféle úton juthat az egér a sajthoz, ha csak fel vagy jobbra léphet, és szeretné elkerülni a macskát?
2. A napközis táborba járó gyerekek harmada uszodába, hatoda a sportpályára, a két heted része pedig a könyvtárba ment. 12 tanuló múzeumlátogatáson vett részt, 6 gyerek a táborban maradt.



a) Hány gyerek járt a napközis táborba?

b) A gyerekek hányad része ment múzeumba?

c) Kik voltak többen: akik a kulturális foglalkozást (múzeum, könyvtár) vagy akik a sportot (uszoda, sportpálya) választották?

Beküldési határidő: november 30.