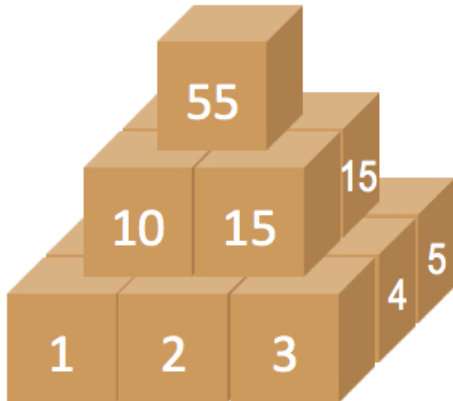



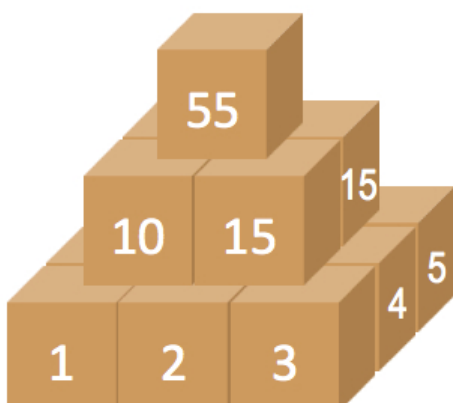

1. Hány egység a háromszög területe?



2. Mennyi az kockákon található összes szám összege, ha tudjuk, hogy a 2. és 3. szinten levő kockákra igaz, hogy annyit érnek, mint a közvetlenül alattuk levő 4 kockának az összege?

**Beküldési határidő: 2017. január 25.**

1. Hány egység a háromszög területe?



2. Mennyi az kockákon található összes szám összege, ha tudjuk, hogy a 2. és 3. szinten levő kockákra igaz, hogy annyit érnek, mint a közvetlenül alattuk levő 4 kockának az összege?

**Beküldési határidő: 2017. január 25.**